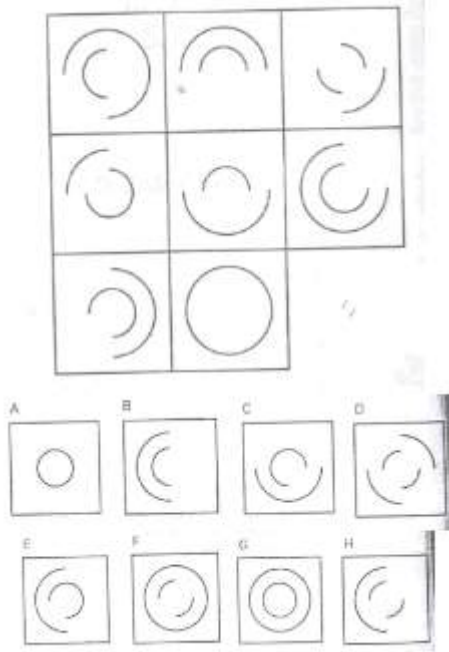
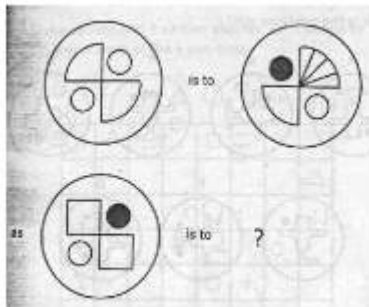


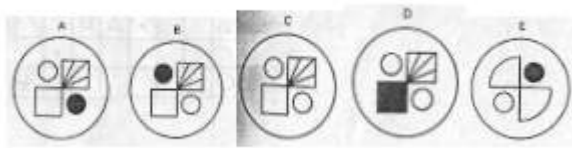
CÂU HỎI TEST IQ KHI ĐI PHÒNG VẤN FPT

Câu 1. Tìm hình còn thiếu

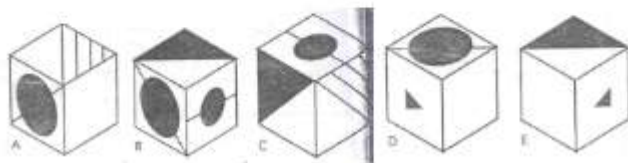
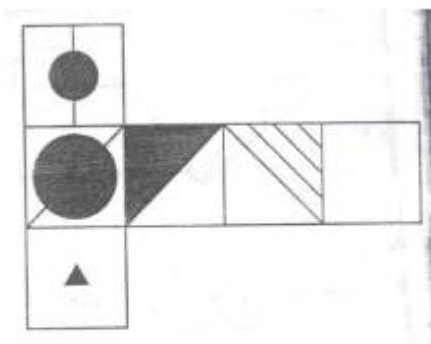


Câu 2. Chọn hình còn thiếu

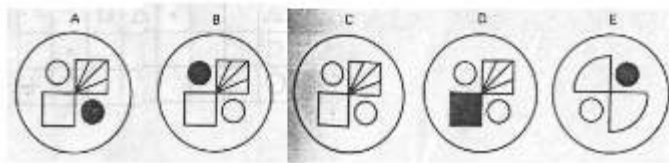
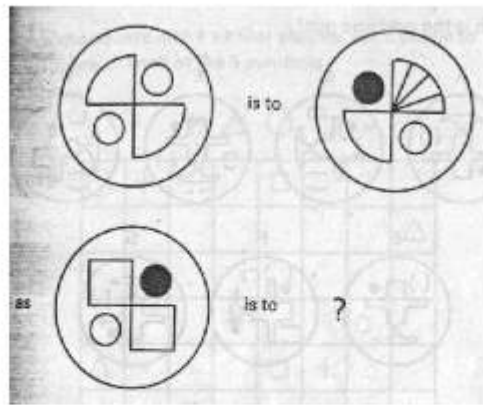




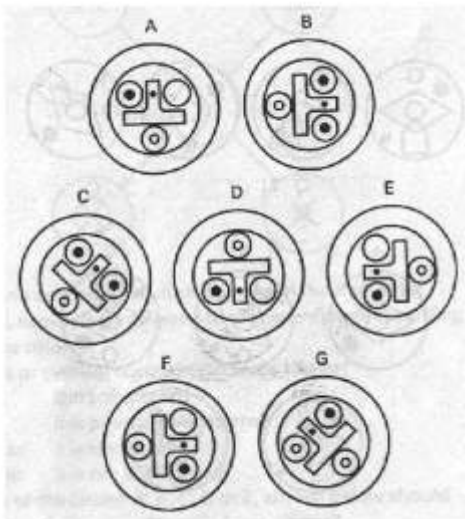
Câu 3. Khi miếng bìa được gấp thành một hình lập phương thì sẽ tạo thành hình lập phương nào trong số những hình dưới đây?



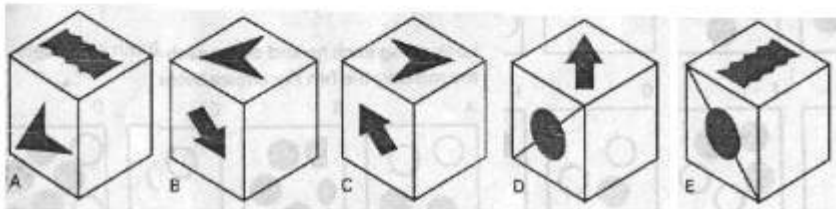
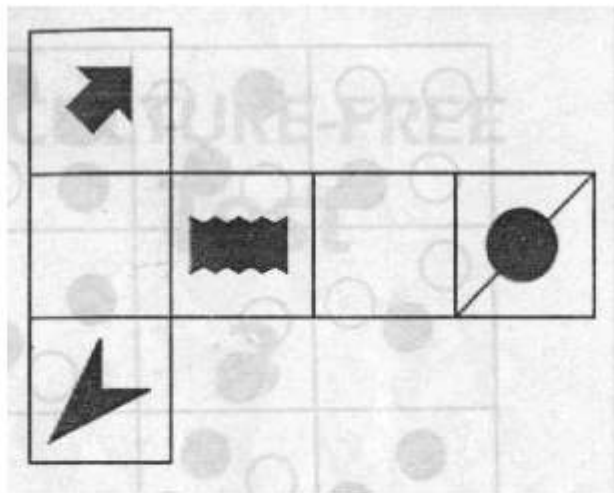
Câu 4. Tìm hình còn thiếu



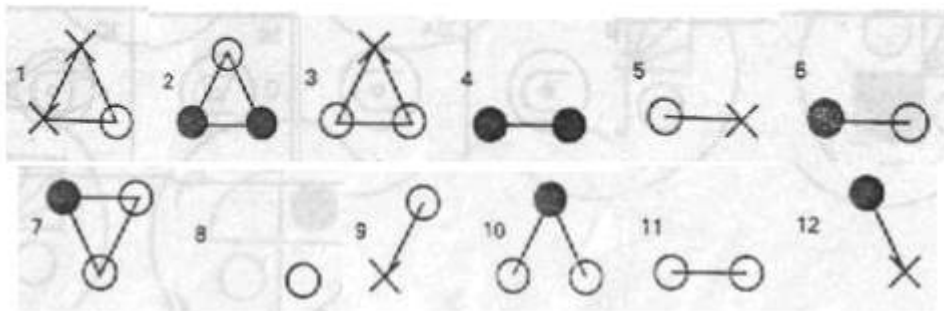
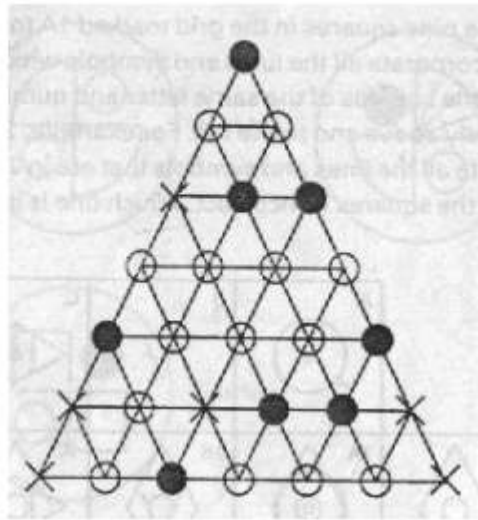
Câu 5. Hình nào trong số dưới đây bị thừa?



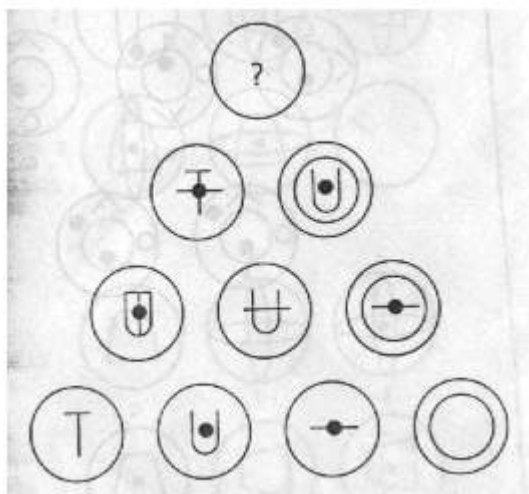
Câu 6. Khi miếng bìa được gấp thành một hình lập phương thì sẽ tạo thành hình lập phương nào trong số những hình dưới đây?

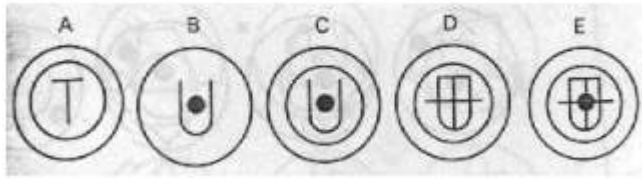


Câu 7. Đặt 12 hình nổi dưới đây vào sơ đồ hình tam giác trên sao cho bao bọc xung quanh hình nổi là những ký hiệu hoàn toàn giống nhau và không được quay hình nổi đó. Lưu ý không phải tất cả các đường thẳng liên kết đều được bao bọc.

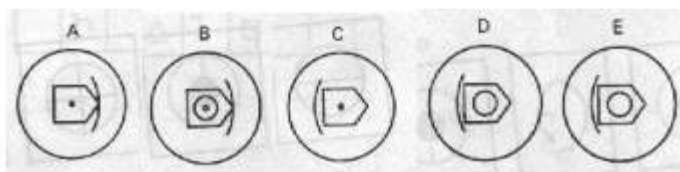



Câu 8. Tìm hình còn thiếu

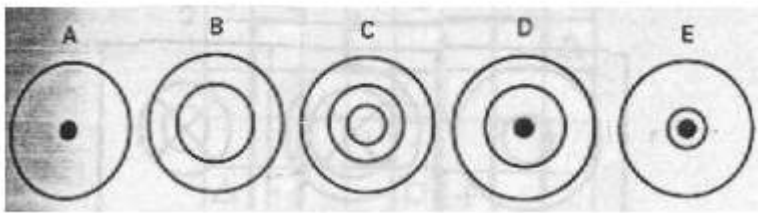
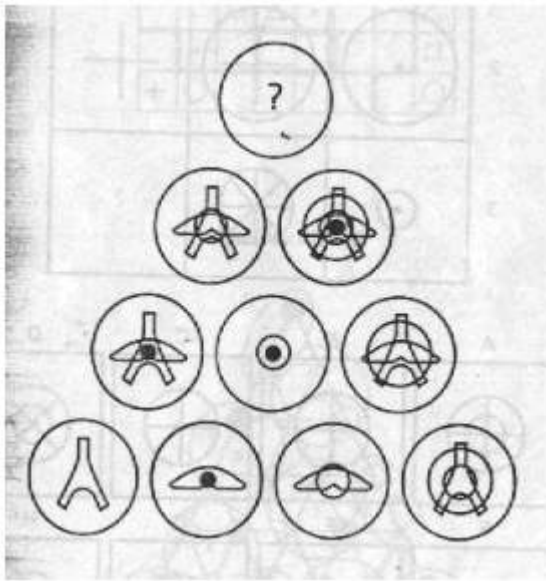




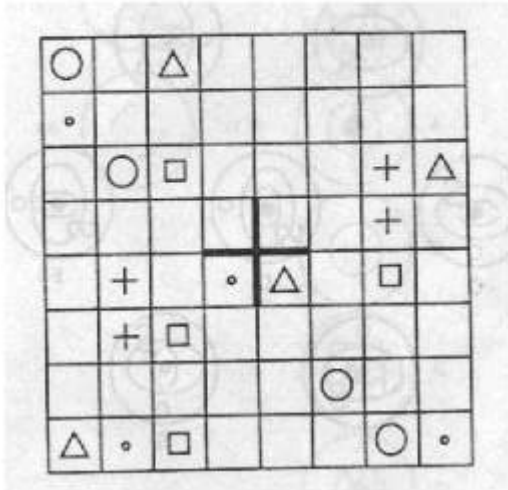
Câu 9. Tìm hình còn thiếu



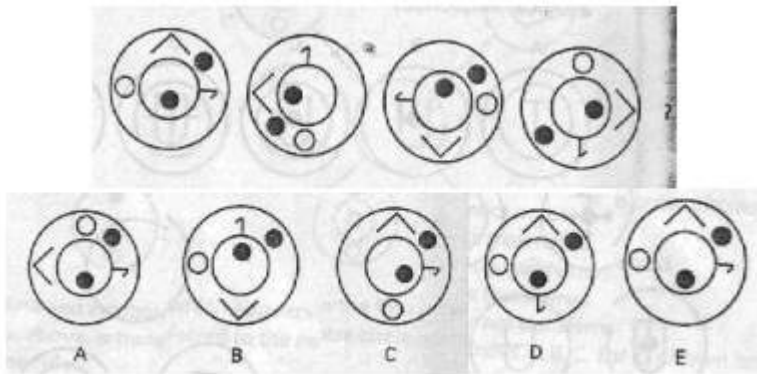
Câu 10. Tìm hình còn thiếu



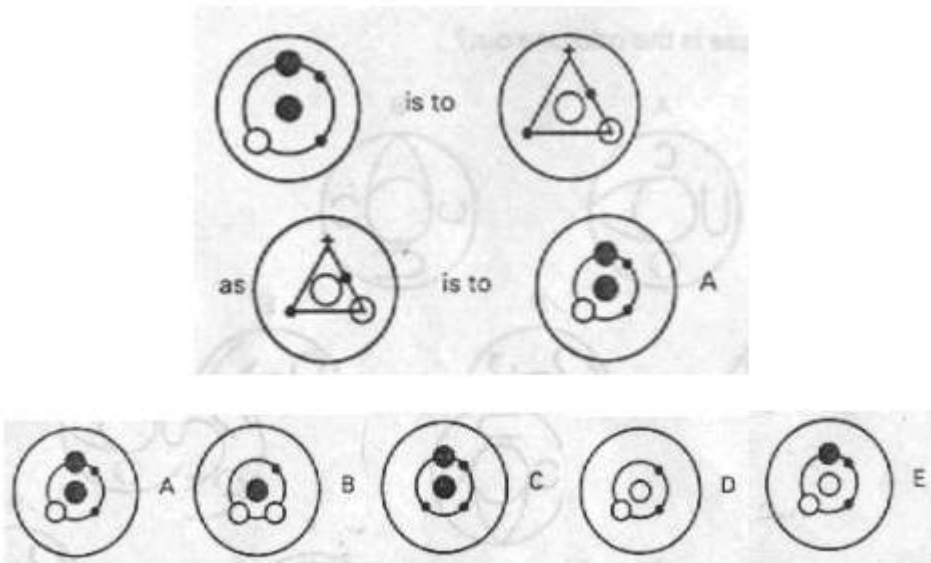
Câu 11. Chia hình vuông thành 4 hình giống nhau, mỗi hình phải chứa năm ký hiệu dưới đây và mỗi ký hiệu chỉ xuất hiện một lần trong 1 hình.



Câu 12. Tìm hình tiếp tục dãy theo logic





Câu 13. Tìm hình còn thiếu



Câu 14. Có 9 ô vùng được đánh dấu từ 1A đến 3C chứa đựng toàn bộ đoạn thẳng và ký hiệu của ô vuông ngoài cùng bên trái ở cùng hàng và ô vuông trên cùng ô cùng cột, ví dụ ô 2B phải có các đường thẳng và ký hiệu của ô 2 và ô B. 1 trong 9 ô đó bị sai. Đó là ô nào?

	A	B	C
1	1A	1B	1C
2	2A	2B	2C
3	3A	3B	3C

Câu 15. Tìm hình còn thiếu



Câu 16. Đưa mỗi đường thẳng hoặc ký hiệu ở 4 vòng tròn bên ngoài, hình trên, vào vòng tròn trung tâm theo luật sau:

Nếu một dòng hoặc một ký hiệu xuất hiện ở các vòng tròn bên ngoài thì:

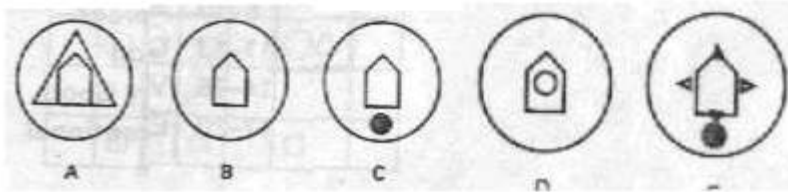
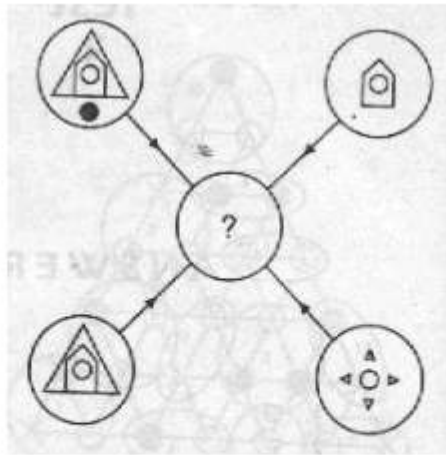
Một lần: nó phải được đưa vào

Hai lần: nó có thể được đưa vào

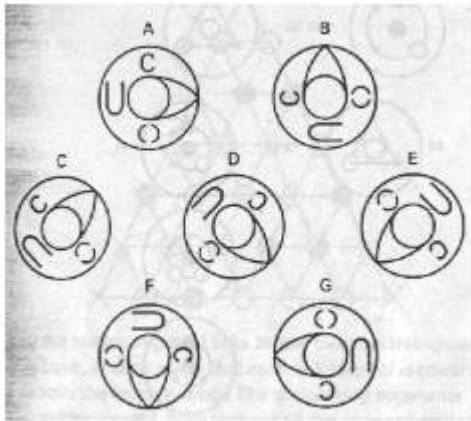
Ba lần: nó đã được đưa vào

Bốn lần: nó không được đưa vào

Vậy vòng tròn trung tâm trong sơ đồ trên nhận A, B, C, D hay E?



Câu 17. Hình nào dưới đây là thừa?



ĐÁP ÁN

1. E

2. C

3. C

4. C

5. G

6. D

7. 1

8. D

9. D

10. D

11. A

12. E

13. A

14. 2B

15. B

16. E

17. D