


CÁC CÂU HỎI IQ KHI PHÒNG VẤN SAMSUNG

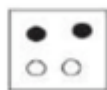
Câu 1. Trong bài test của bạn có một số câu hỏi. Bạn đã trả lời sai 10 câu hỏi. Kết quả thang điểm của bạn chỉ đạt 60%. Vậy bài test của bạn có tất cả bao nhiêu câu hỏi?

- A. 20
- B. 25
- C. 30
- D. 35


Câu 2. Điền hình còn thiếu vào chỗ trống



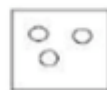
A




B



C

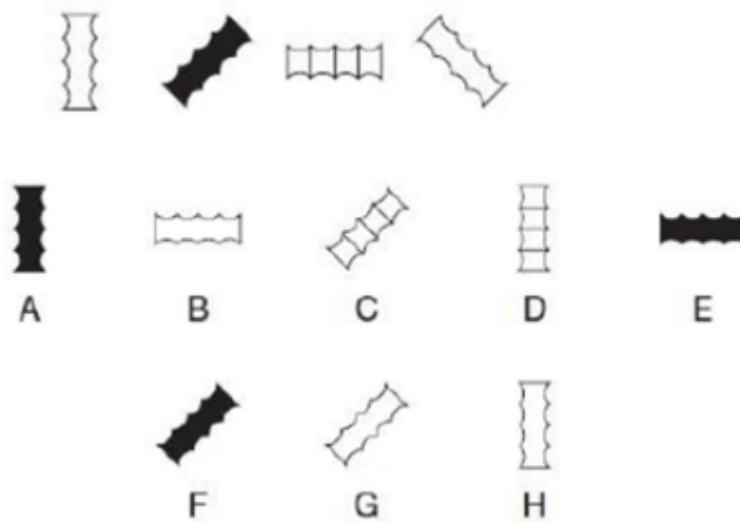


D



E

Câu 3. Hình tiếp theo sẽ là hình nào?



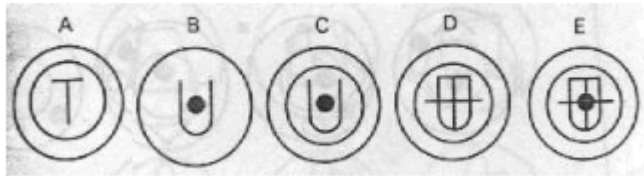
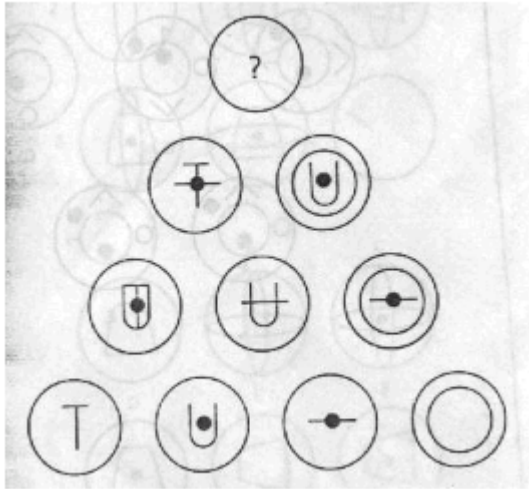
Câu 4. Trong 4 loại sau đây, loại nào có đặc tính ít giống với 3 loại còn lại?

- A. Tỏi
- B. Nho
- C. Rau diếp cá
- D. Nấm

Câu 5. Trời âm u, đất tù mù, có 3 người gù, chung một cây dù. Hỏi người nào ướt?

- A. Người thứ nhất
- B. Người thứ hai
- C. Người thứ ba
- D. Không có người nào ướt

Câu 6. Hình tiếp theo là hình nào?



Câu 7. Bạn có 84 quả táo đựng trong 12 giỏ, nếu muốn ăn $\frac{1}{3}$ số táo trong mỗi giỏ thì bạn cần ít nhất bao nhiêu lần cắn, biết rằng mỗi lần bạn cắn được $\frac{1}{3}$ của $\frac{1}{2}$ quả táo.

- A. 168
- B. 121
- C. 144
- D. 225

Câu 8. Tám người sơn được 3 cái nhà trong 6 giờ. Hỏi với 12 người sẽ sơn được bao nhiêu cái nhà trong 12 giờ?

- A. 3 cái

B. 5 cái

C. 7 cái

D. 9 cái

Câu 9. Người ta đổ nước vào một bể cạn theo tỷ lệ không đổi, sau 8 giờ thì đổ được $\frac{3}{5}$ thể tích của bể. Hỏi cần thêm thời gian là bao lâu nữa để đổ đầy bể nước đó?

A. 5 giờ 30 phút

B. 5 giờ 20 phút

C. 4 giờ 48 phút

D. 3 giờ 12 phút

Câu 10. Sắp xếp các chữ cái: "HÙCYẬNUC" bạn được tên

A. Một tỉnh thành

B. Một nhà thơ

C. Một bài hát

D. Một vị vua

ĐÁP ÁN

1. B

2. A

3. A

4. B

5. D

6. D

7. A

8. D

9. B

10. B