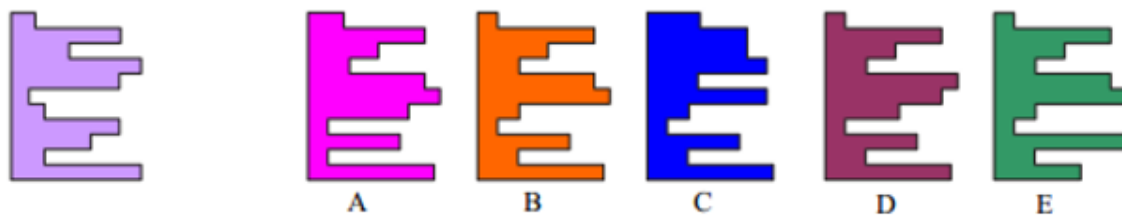


BÀI TEST IQ PHÒNG VẤN VIETTEL

Câu 1: Mảnh ghép nào dưới đây trong số các mảnh A, B, C, D và E khi ghép với mảnh ở bên trái sẽ tạo ra một hình vuông hoàn chỉnh?



Câu 2: Số nào sẽ là số tiếp theo của chuỗi số sau?

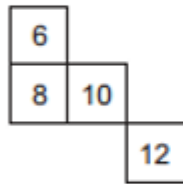
0, 1, 2, 4, 6, 9, 12, 16, ?

Câu 3: Số nào khác tính chất với các số còn lại?

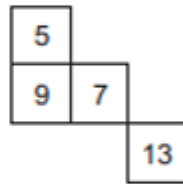
9678 4572 5261 5133 3527 6895 7768

Câu 4: Còn thiếu các chữ số nào?

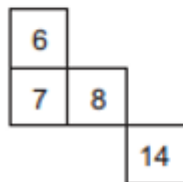
1	2	4	7
4	?	7	10
6	?	?	12
7	8	10	?



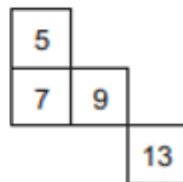
A



B

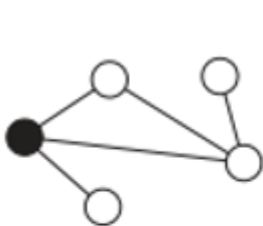


C

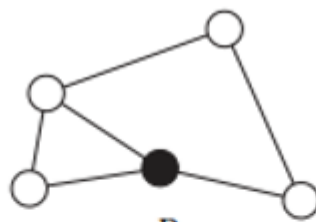


D

Câu 5: Hình nào khác với các hình còn lại?



A



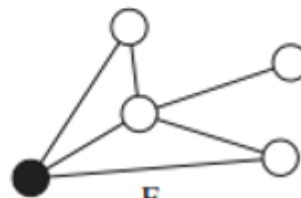
B



C

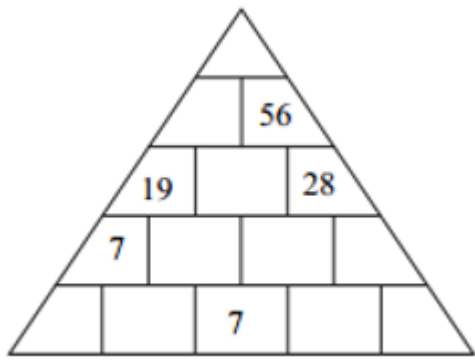


D



E

Câu 6: Hãy điền vào kim tự tháp số còn thiếu.



Câu 7: Hình nào khác với các hình còn lại?



A



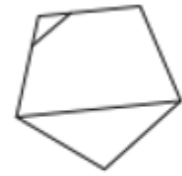
B



C



D



E

Câu 8: Hình nào khác với các hình còn lại?

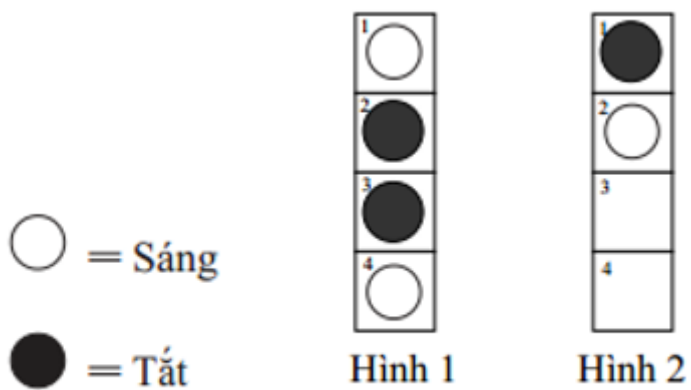
Hình bảy cạnh, Hình tam giác, Hình lục giác, Hình lập phương, Hình ngũ giác

Câu 9: Công tắc A bật đèn số 1 và 2 sáng/tắt hoặc tắt/sáng

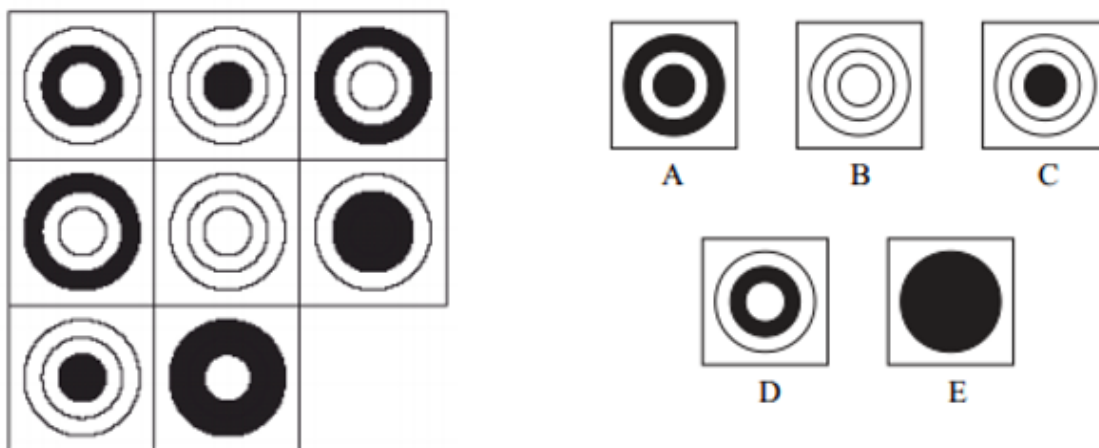
Công tắc B bật đèn số 2 và 4 sáng/tắt hoặc tắt/sáng

Công tắc C bật đèn số 1 và 3 sáng/tắt hoặc tắt/sáng

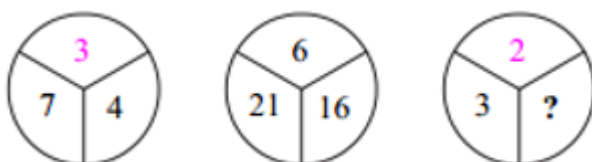
Bỏ lần lượt các công tắc C, A và B với kết quả Hình 1 thành Hình 2. Vậy công tắc nào không hoạt động tí nào?



Câu 10: Hình bên trái còn thiếu hình nào trong số các hình sau?



Câu 11: Số còn thiếu ở chỗ dấu chấm hỏi là số nào?



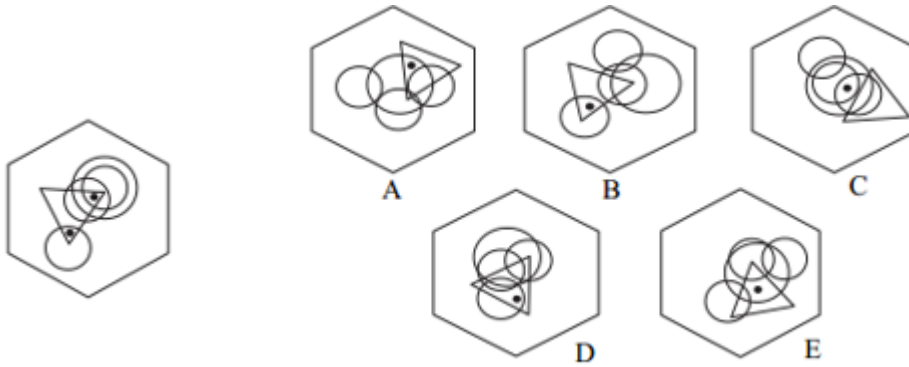
Câu 12: Trước 12 giờ trưa là bao nhiêu phút?

Nếu trước đó 9 phút số phút này gấp hai lần số phút sau 10 giờ sáng?

Câu 13: Tìm 5 số liên tiếp của chuỗi dưới đây có tổng bằng 22.

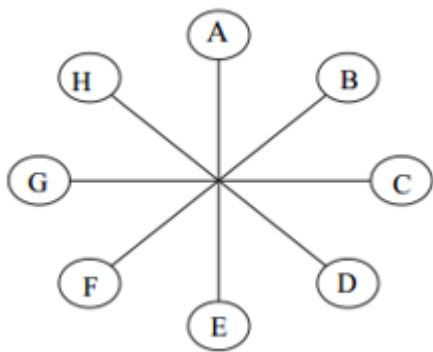
7 3 9 6 4 1 3 7 9 3 5 4 1 7 6 5

Câu 14: Hình lục giác nào trong số các hình A, B, C, D và E có thể thêm vào một dấu chấm sao cho cả hai dấu chấm đáp ứng được cùng điều kiện như hai dấu chấm trong hình lục giác bên trái?

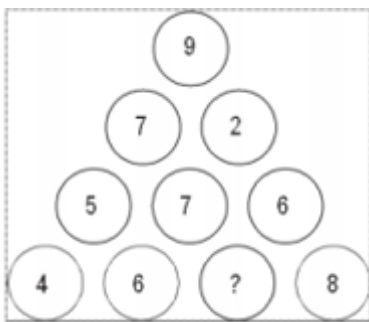


Câu 15: Chữ cái nào trực diện với chữ cái mà cách nó 2 chữ cái theo chiều kim đồng hồ tính

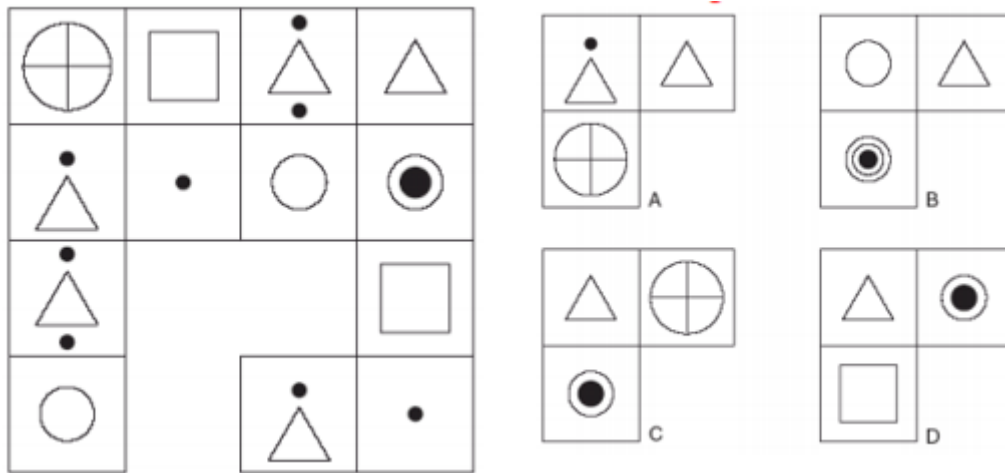
từ chữ cái trực diện với chữ cái E



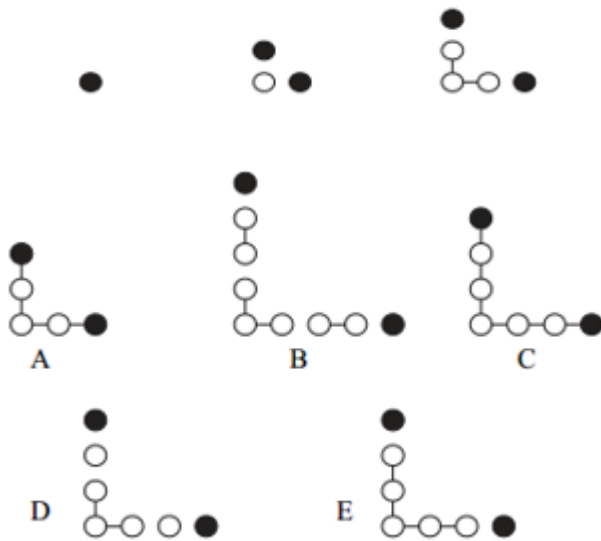
Câu 16: Số nào sẽ thay vào dấu chấm hỏi trong hình bên dưới?



Câu 17: Nhóm hình trên còn thiếu hình nào trong số các hình sau?




Câu 18: Tiếp theo chuỗi hình trên là hình nào trong số các hình sau?

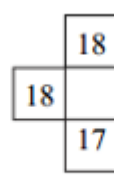


Câu 19: Điền vào chỗ dấu hỏi hình thích hợp?

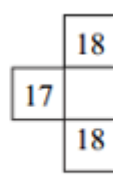
20	22	19	21
17	19	16	?
19	21	?	20
16	18	15	?




A



B



C



D

Câu 20: Hãy điền số còn thiếu vào chỗ dấu chấm hỏi?



Câu 21: Tìm hình tiếp theo



A



B



C



D



E

Câu 22: Số nào sẽ là số tiếp theo?

0, 4, 2, 6, 3, 7, 3.5, ?

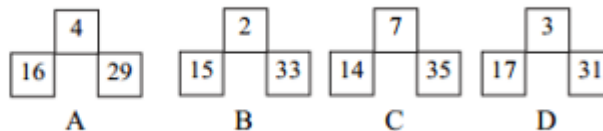
Câu 23: Tìm ra hai từ (một từ trong mỗi nhóm ngoặc đơn bên dưới có quan hệ tương tự với các từ in hoa và liên quan tới các từ trong nhóm.

KINH ĐỘ (độ, chí tuyến, kinh tuyến)

VĨ ĐỘ (đường song song, đường thẳng, đường phân)

Câu 24: Điền vào chỗ dấu hỏi hình thích hợp?

5	2	3	10
6	4	1	11
1	9	?	12
12	?	6	?



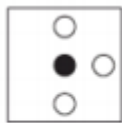

Câu 25: Từ nào trong ngoặc đơn có nghĩa gần nhất với từ in hoa?

THEO DÕI (Ra lệnh, Quan sát, Can thiệp, Xâm nhập, Kết luận)

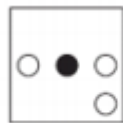
Câu 26: Hãy chọn ra hai từ trái nghĩa nhau nhất?

Sự tự do, Sự phù phiếm, Sự trong trắng, Sự diêm đạm, Sự phi lý, Sự đối cực

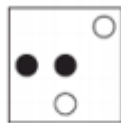
Câu 27: Nhìn các hàng ngang và dọc, nếu hai ô hình đầu tiên hợp với nhau để tạo thành hình thứ 3, trừ trường hợp các ký hiệu giống nhau sẽ triệt tiêu nhau khi kết hợp. Vậy ô hình nào ở trên kết hợp không đúng và phải thay thế bằng ô hình nào dưới đây?



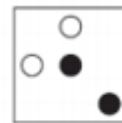
A



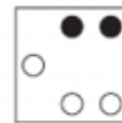
B



C

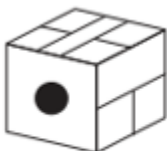
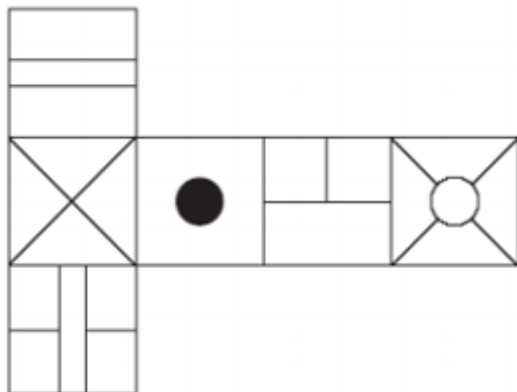


D

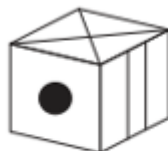


E

Câu 28: Khi hình trên gập lại để tạo thành một hình hộp thì có thể là duy nhất hình nào trong các hình dưới đây?



A



B



C



D



E

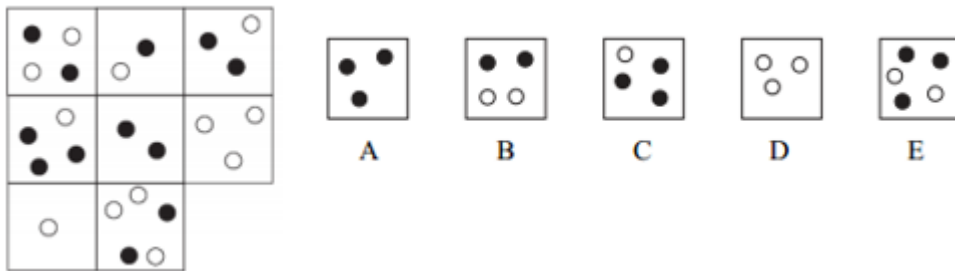
Câu 29: Từ nào khác với các từ còn lại?

Xương đùi, Hàm dưới, Xương mác, Xương chày, Xương bánh chè

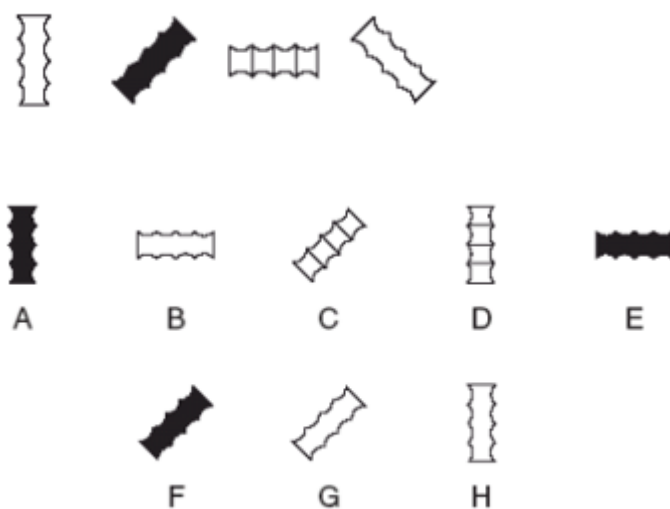
Câu 30: Chiều nay đồng hồ đeo tay của tôi chạy đúng giờ, sau đó nó bắt đầu chạy chậm 17 phút mỗi giờ cho đến khi cách đây 6 tiếng nó ngừng chạy hoàn toàn.

Lúc này nó chỉ thời gian là 2.52 pm. Vậy bây giờ là mấy giờ?

Câu 31: Hãy điền hình còn thiếu vào hình bên?



Câu 32: Tiếp theo chuỗi hình trên là hình nào trong số các hình sau?



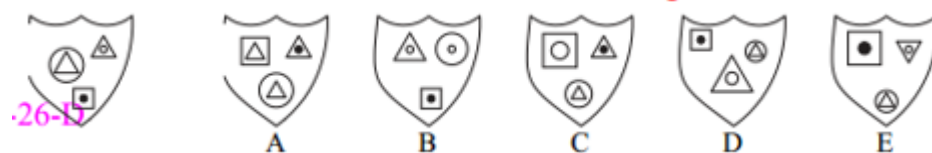
Câu 33: Tiếp theo chuỗi số là số nào?

1, 101, 15, 4, 29, -93, 43, -190, ?

Câu 34: Hãy điền số thích hợp vào chỗ dấu chấm hỏi?

15, 5, 8, 24, 21, 7, 10, 30, ?, ?, ?, 36, 33

Câu 35: Cho hình bên trái Hình nào bên dưới có điểm chung nhất với hình ở bên trái?



Câu 36: Hãy điền con số còn thiếu vào ô trống ở hình dưới?

5		4		?	
8	5	7	6	9	1
1	7	1	9	1	3

Câu 37: Công tắc A bật đèn số

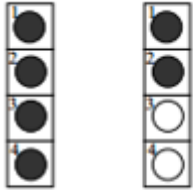
Công tắc B bật đèn số 2 và 4 sáng/tắt hoặc tắt/sáng

Công tắc C bật đèn số 1 và 3 sáng/tắt hoặc tắt/sáng

Công tắc D bật đèn số 3 và 4 sáng/tắt hoặc tắt/sáng

Tắt lần lượt công tắc D, C, A và B với kết quả Hình 1 chuyển thành Hình. Vậy công tắc nào không hoạt động?

● = Sáng
○ = Tắt

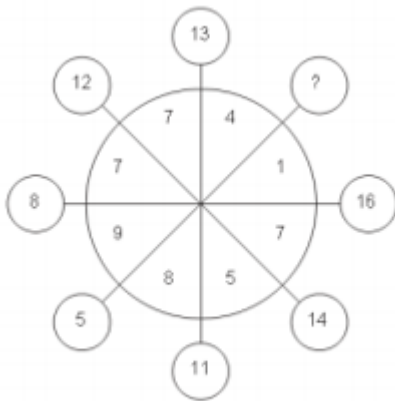


Hình 1 Hình 2

Câu 38: Từ nào trong ngoặc đơn gần nghĩa nhất với từ in hoa?

HỢP NHẤT - Bịt mồm - Nổ - Bất động - Siết chặt

Câu 39: Số nào sẽ thay cho dấu chấm hỏi?



Câu 40: Hình lục giác nào trong số các hình A, B, C, D và E có thể thêm vào một dấu chấm sao cho đáp ứng được cùng điều kiện như trong hình lục giác bên trên 5 hình này ?



A



B



C



D



E

ĐÁP ÁN

1. B

2. 20

3. 3527

4. D

5. C

6. 103, 47, 28, 12, 16, 12, 2, 5, 9, 3 (các số lần lượt từ trên xuống, trái sang phải)

7. B

8. Hình lập phương

9. Công tắc A bị hỏng

10. B

11. 4

12. 37 phút

13. 9 3 5 4 1

14. D

15. G

16. 0

17. C

18. E

19. B

20. 5

21. B

22. 7.5

23. Kinh tuyến, Đường song song

24. B

25. Quan sát
26. Sự phù phiếm & Sự điềm đạm
27. Hình 7 sai, thay bằng hình B
28. D
29. Hàm dưới
30. 10 giờ đêm
31. D
32. A
33. 57
34. 27, 9, 12
35. D
36. 7
37. Công tác D
38. Kết hợp
39. 17
40. E